

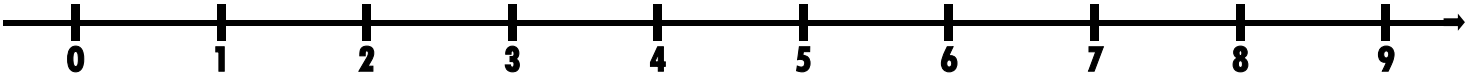


Prénom : _____

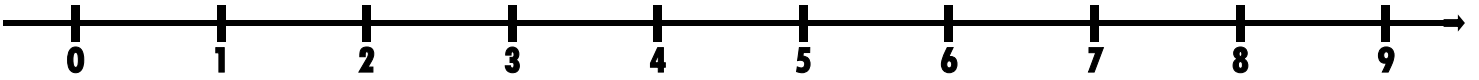
Date : _____

Se déplacer sur la file numérique jusqu'à 9

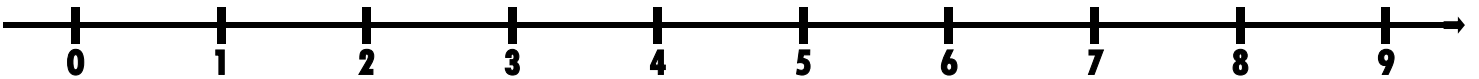
Dessine les additions sur l'axe des nombres. Ecris les résultats.



$$\boxed{5} + \overset{\text{---}}{\overset{\text{---}}{\overset{\text{---}}{3}}} = \boxed{}$$



$$\boxed{1} + \overset{\text{---}}{\overset{\text{---}}{\overset{\text{---}}{\overset{\text{---}}{\overset{\text{---}}{8}}}}} = \boxed{}$$



$$\boxed{2} + \overset{\text{---}}{\overset{\text{---}}{\overset{\text{---}}{6}}} = \boxed{}$$



$$\boxed{4} + \overset{\text{---}}{\overset{\text{---}}{\overset{\text{---}}{5}}} = \boxed{}$$




Prénom : _____

Date : _____

Se déplacer sur la file numérique jusqu'à 9

Utilise la file des nombres pour trouver le résultat des additions.



$$\boxed{3} + \overset{\text{🐰}}{\underbrace{\quad\quad\quad}} 4 = \boxed{}$$

$$\boxed{2} + \overset{\text{🐰}}{\underbrace{\quad\quad\quad}} 7 = \boxed{}$$

$$\boxed{4} + \overset{\text{🐰}}{\underbrace{\quad\quad\quad}} 4 = \boxed{}$$

$$\boxed{3} + \overset{\text{🐰}}{\underbrace{\quad\quad\quad}} 7 = \boxed{}$$

$$\boxed{5} + \overset{\text{🐰}}{\underbrace{\quad\quad\quad}} 4 = \boxed{}$$

$$\boxed{8} + \overset{\text{🐰}}{\underbrace{\quad\quad\quad}} 1 = \boxed{}$$

$$\boxed{6} + 3 = \boxed{}$$