



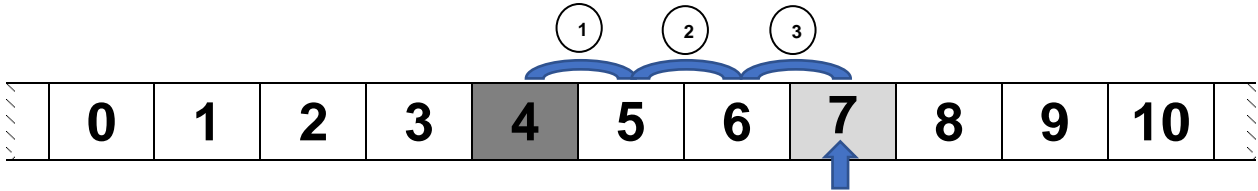
Prénom : _____

Date : _____

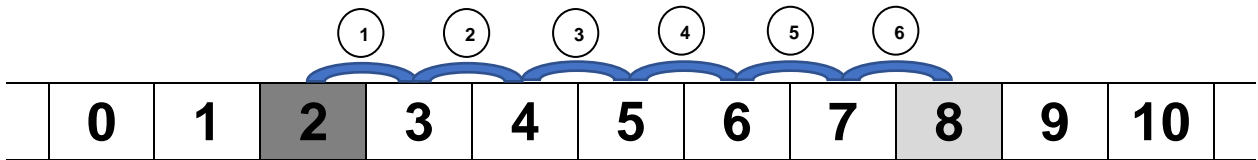
Se déplacer sur l'axe des nombres jusqu'à 9



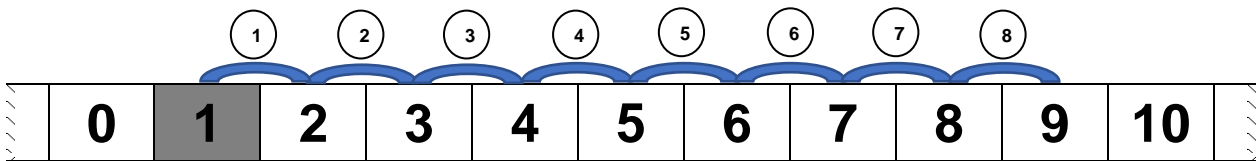
Dessine les additions sur l'axe des nombres. **Ecris** les résultats.



$$4 + 3 = \boxed{}$$



$$2 + 6 = \boxed{}$$



$$1 + 8 = \boxed{}$$



$$6 + 1 = \boxed{}$$



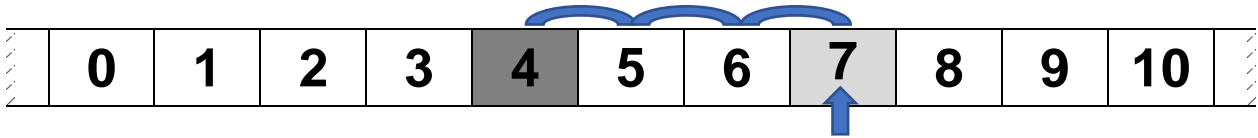
Prénom : _____

Date : _____

Se déplacer sur l'axe des nombres jusqu'à 9



Dessine les additions sur l'axe des nombres. **Ecris** les résultats.



$$4 + 3 = \boxed{}$$



$$6 + 1 = \boxed{}$$



$$4 + 5 = \boxed{}$$



$$2 + 7 = \boxed{}$$



Prénom : _____

Date : _____

Se déplacer sur l'axe des nombres jusqu'à 9



Dessine les additions sur l'axe des nombres. **Ecris** les résultats.



$$5 + 3 = \boxed{}$$



$$3 + 4 = \boxed{}$$



$$1 + 7 = \boxed{}$$



$$2 + 6 = \boxed{}$$