



Prénom : \_\_\_\_\_

Date : \_\_\_\_\_

**L'addition, résultats  $\leq 7$**

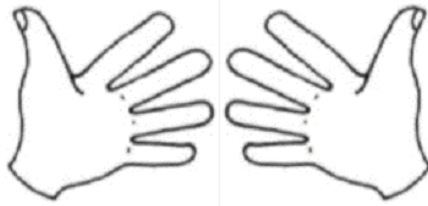
	<b>0</b>	<b>1</b>	<b>2</b>	<b>3</b>	<b>4</b>	<b>5</b>	<b>6</b>	<b>7</b>	<b>8</b>	<b>9</b>	<b>10</b>
--	----------	----------	----------	----------	----------	----------	----------	----------	----------	----------	-----------

**Colorie en orange** le nombre de doigts correspondant au 1<sup>er</sup> nombre.

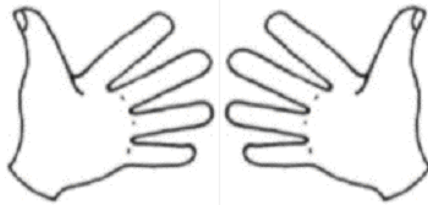
**Colorie en vert** le nombre de doigts correspondant au 2<sup>ème</sup> nombre.

**Ecris le résultat.**

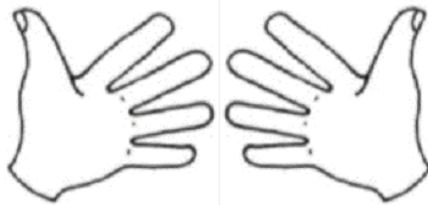
$$3 + 4 = \boxed{\phantom{00}}$$



$$1 + 5 = \boxed{\phantom{00}}$$



$$3 + 3 = \boxed{\phantom{00}}$$



$$6 + 1 = \boxed{\phantom{00}}$$

