



# Séance 114 Additionnons des groupes égaux


1 ✎ Complète.



$4 + 4 = \square$   
 2 groupes de 4 =  $\square$



$5 + 5 + 5 = \square$   
 3 groupes de 5 =  $\square$



$3 + 3 + 3 + 3 = \square$   
 4 groupes de 3 =  $\square$

2 ✎ Complète.

✎ Relie chaque début d'étiquette à sa fin.

3 groupes de 2 =  $\square$  •  $8 + 8 + 8 + 8 = \square$

3 groupes de 6 =  $\square$  •  $2 + 2 + 2 = \square$

2 groupes de 3 =  $\square$  •  $6 + 6 + 6 = \square$

4 groupes de 8 =  $\square$  •  $3 + 3 = \square$

2 groupes de 9 =  $\square$  •  $7 + 7 + 7 + 7 + 7 = \square$

5 groupes de 7 =  $\square$  •  $9 + 9 = \square$