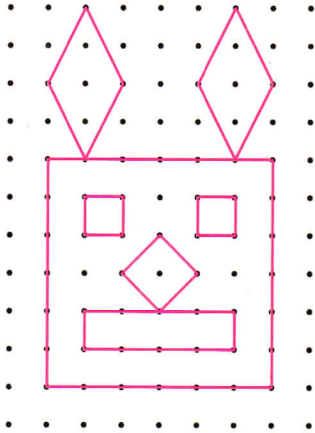


2 * Sur ton cahier, trace :

- a. un carré de 2 carreaux de côté ;
- b. un rectangle de 2 carreaux de largeur et de 5 carreaux de longueur ;
- c. un carré de 4 carreaux de côté ;
- d. un rectangle de 6 carreaux de longueur et d'un carreau de largeur ;
- e. un carré de 8 carreaux de côté.

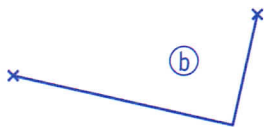
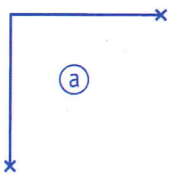
3 * Reproduis la figure sur du papier pointé.



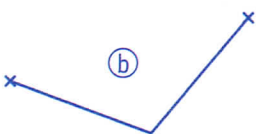
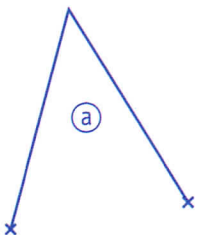
Tracer et reproduire sur du papier uni

4 * Complète les deux figures pour obtenir :

- a. un carré ;
- b. un rectangle.

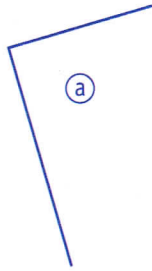


5 * Complète les figures pour obtenir deux losanges.



6 * Complète les figures pour obtenir :

- a. un rectangle de 4 cm de longueur et 2 cm de largeur ;
- b. un losange de 2 cm de côté ;
- c. un carré de 2 cm de côté.



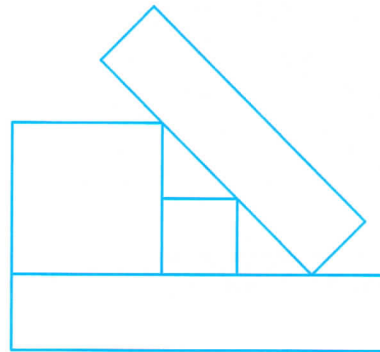
7 * Trace sur du papier uni :

- a. un carré de 3 cm de côté ;
- b. un rectangle de 3 cm de largeur et 8 cm de longueur ;
- c. un losange de 4 cm de côté.

8 * Reproduis la figure sur du papier uni.



Mesure le modèle pour reproduire le tracé.



DÉFI MATHS

Reproduis la figure sur du papier pointé, puis colorie-la.

